


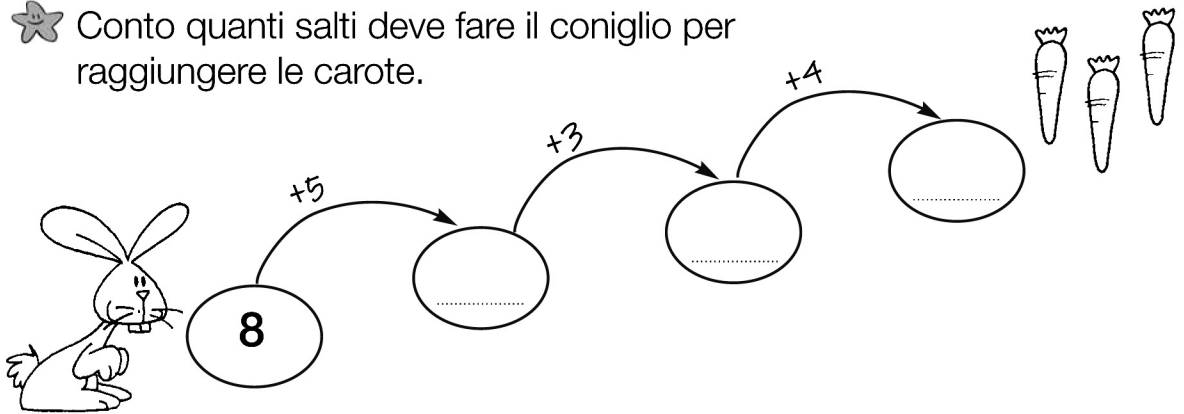


PIÙ E MENO

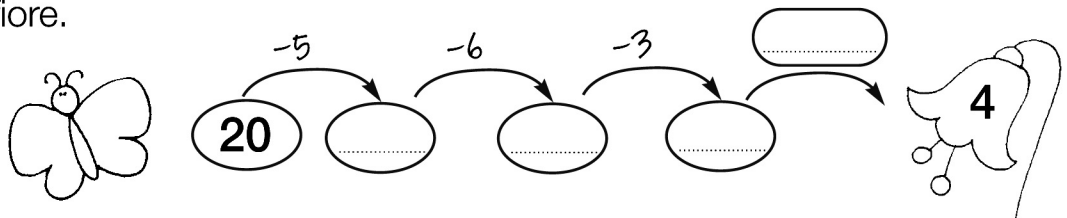
★ Scrivo il numero precedente e quello successivo al numero dato.



★ Conto quanti salti deve fare il coniglio per raggiungere le carote.



★ Eseguo le sottrazioni e scrivo l'operazione mancante per arrivare al fiore.



★ Coloro il risultato corretto.

$6 + 7 =$

11	13	9
----	----	---

$18 - 7 =$

10	11	8
----	----	---

$4 + 9 =$

12	15	13
----	----	----

$15 - 6 =$

9	11	7
---	----	---