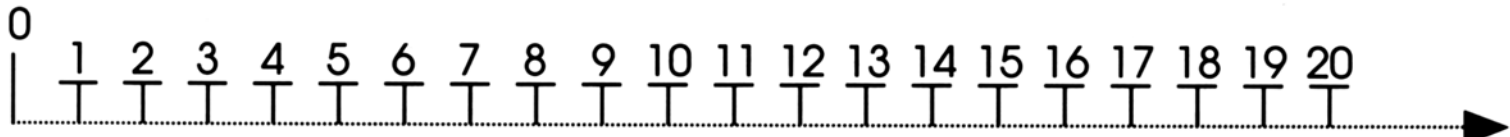


# Addizioni e Sottrazioni sulla linea dei numeri

• ESEGUI LE ADDIZIONI SUL TUO QUADERNO AIUTANDOTI CON LA LINEA DEI NUMERI.



$$6 + 8 =$$

$$18 + 2 =$$

$$13 + 5 =$$

$$7 + 9 =$$

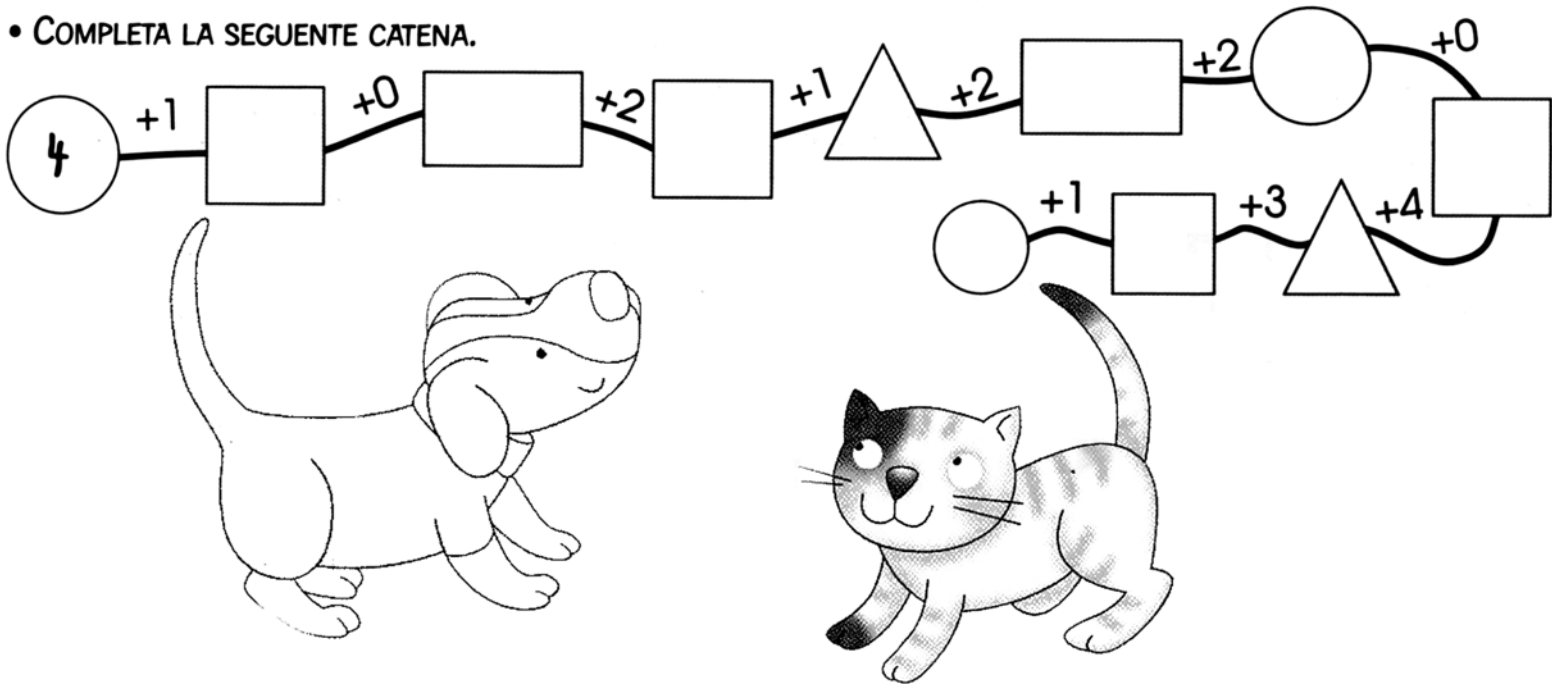
$$2 + 8 =$$

$$16 + 3 =$$

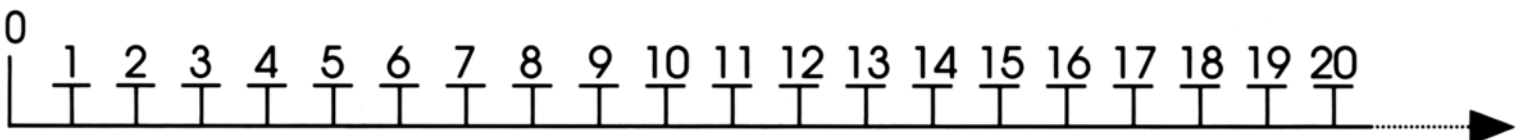
$$12 + 7 =$$

$$8 + 6 =$$

• COMPLETA LA SEGUENTE CATENA.



• ESEGUI LE SOTTRAZIONI SUL TUO QUADERNO AIUTANDOTI CON LA LINEA DEI NUMERI.



$$19 - 17 =$$

$$17 - 1 =$$

$$16 - 7 =$$

$$15 - 4 =$$

$$12 - 8 =$$

$$20 - 9 =$$

$$15 - 3 =$$

$$19 - 19 =$$

$$10 - 0 =$$

$$18 - 6 =$$

$$20 - 17 =$$

$$13 - 11 =$$

$$14 - 5 =$$

$$8 - 6 =$$

$$19 - 13 =$$

$$11 - 4 =$$

• COMPLETA LA SEGUENTE CATENA.

