


- ⑥ Circonda i gruppi di tre turisti e poi scrivi il numero, come si deve fare nel pianeta del tre.


PIANETA DEL TRE



Gruppi di tre	Unità sole

- ⑥ Sul pianeta del quattro, dove ci si raggruppa per quattro, scendono quindici turisti. Circonda i gruppi di quattro, poi scrivi il numero.


PIANETA DEL QUATTRO



Gruppi di quattro	Unità sole

- ⑥ Sul pianeta del dieci, dove tutti si raggruppano per dieci, scendono ventidue turisti. Circonda i gruppi di dieci, poi scrivi il numero.

PIANETA DEL DIECI



Gruppi di dieci	Unità sole